




HVORDAN ER VEJRET PÅ KOLONIEN?

HYPOTESE: Vejrudsigten holder, hvad den lover!






OBSERVATION		HVAD SIGER VEJRUDSIGTEN?
	Hvordan er det generelle vejr? _____ _____	Det generelle vejr: _____ _____
	Mål temperaturen fire forskellige steder: 1 _____ °C 2 _____ °C 3 _____ °C 4 _____ °C	Den officielle måling: _____ °C
	Er der højtryk eller lavtryk på kolonien? Hvad måler barometeret: _____ hPa Er det højtryk eller lavtryk? (Normaltryk: 1013 hPa) _____	Højtryk/lavtryk: _____ _____
	Hvor kommer vinden fra? _____ Hvor er højtryks- og lavtryksområdet? _____	

HVORDAN ER VEJRET PÅ KOLONIEN?

HYPOTESE: Vejrudsigten holder, hvad den lover!



OBSERVATION			HVAD SIGER VEJRUDSIGTEN?
	Se på Beaufortskalaen: Vindstyrken på vand: _____ Vindstyrken på land: _____	Meter i sekundet: _____ Betegnelse: _____ Meter i sekundet: _____ Betegnelse: _____	Vindstyrken på vand: _____ Vindstyrken på land: _____
	Mål vindhastigheden fire forskellige steder: 1 _____ 2 _____ 3 _____ 4 _____	Den officielle måling: Vindstyrke: _____ Meter i sekundet: _____ Betegnelse: _____	Meter i sekunder: _____ Betegnelse: _____
	Hvor meget af himlen er dækket af skyer? Svar: _____ %	Hvilke skyer er på himlen? (Se på bestemmelsesdug: Hvad hedder skyerne?) Svar: _____	Skyer: _____

SCIENCE
LEJRSKOLE



novo
nordisk
fonden